

## Bilgilerim...

ADIM SOYADIM :  
SINIFI :  
NUMARAM :

## Eş sesli kelimelerin farklı anlamları ile cümleler kurun.

Ben: ..... Yaz: .....  
.....  
.....  
Şiş: ..... Atlet: .....  
.....  
.....  
Kara: ..... Hayır: .....  
.....  
.....

## Alttaki problemleri çözün.

Üç basamaklı en büyük çift doğal sayı ile üç basamaklı en küçük tek doğal sayının farkı kaçtır?	İki sayının toplamı 35 ve farkı 15 olduğuna göre;  Büyük sayı kaçtır?  Küçük sayı kaçtır?
Bir çiftlikte 5 koyun, 6 tavuk olduğuna göre bu çiftlikte yaşayan hayvanların ayak sayısı kaçtır?	İki kardeşin yaşlarının toplamı 19, farkı ise 7 olduğuna göre;  Büyük kardeşin yaşı kaçtır?  Küçük kardeşin yaşı kaçtır?

## Çoktan Seçmeli Sorular

① Yandaki papatyada eş anlamlı sözcüklerin bulunduğu yapraklar koparıldığında geriye sözcüğün bulunduğu yaprak kalır?



A) hatıra B) tören C) anı

② “Aç” sözcüğü aşağıdaki cümlelerin hangisinde farklı anlamda kullanılmıştır?

- A) Çok aç olduğu için hızlı yiyordu.  
B) Kapının önündeki kedi çok açtı.  
C) Evin penceresini açtı.

③ Kesme işareti (') aşağıdaki sözcüklerin hangisinde doğru kullanılmıştır?

- A) Manisa'dan babam geldi  
B) Konya'lı arkadaşım var.  
C) Eymen'ler bize gelecek.

- ✓ Dikkatini bana vermelisin
- ✓ Neden dikkatimi sana vermeliyim
- ✓ Çünkü beni iyi anlamalısın

④ Yukarıdaki cümlelerin sonuna sırasıyla hangi noktalama işaretleri kullanılmalıdır?

- A) ? , ? B) , ? , C) , , ?

⑤ Aşağıdaki cümlelerin hangisinde **karşıt anlamlı** sözcükler bir arada kullanılmıştır?

- A) Sakla samanı, gelir zamanı.  
B) Bakarsan bağ, bakmazsan dağ olur.  
C) Her yokuşun bir inişi vardır

10 x 1 = 10	10 x 6 = 60
10 x 2 = 20	10 x 7 = 70
10 x 3 = 30	10 x 8 = 80
10 x 4 = 40	10 x 9 = 90
10 x 5 = 50	10 x 10 = 100

⑥ Aşağıdaki özelliklerden hangisinin arkadaşlarımızda bulunmasını istemeyiz?

- A) Sevecen B) Kıskanç C) Hoşgörülü

⑦ Aşağıdaki okul hazırlıklarından hangisi beslenmemizle ilgili değildir?

- A) Kahvaltı yapmak  
B) Derse geç kalmamak  
C) Öğle arası yemek yemek

Oya açık olan çekmeceyi önce kapatmış, sonra tekrar açmıştır.

⑧ Yukarıdaki ifadeye göre Oya'nın uyguladığı kuvvetler sırayla aşağıdakilerden hangisinde doğru verilmiştir?

- A) İtme – Dönme  
B) Çekme- İtme  
C) İtme- Çekme

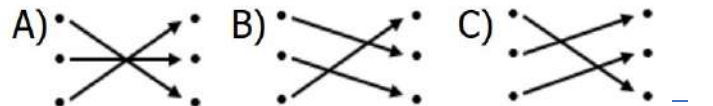
⑨ Yandaki çocuk çekiç atmak için sırası ile hangi hareketleri yapmıştır?



- A) hızlanma- sallanma  
B) sallanma- yavaşlama  
C) dönme- hızlanma

418 – 265 = •	• 310
825 – 637 = •	• 153
764 – 454 = •	• 188

⑩ Yukarıdaki çıkarma işlemleri sonuçlarıyla eşleştirildiğinde aşağıdaki sonuçlardan hangisi ortaya çıkar?



**Verilen kelimeleri hecelerine ayırın.**

Arkadaşlık	.....	etkinlik	.....	ilkokul	.....
Bilgisayar	.....	huzurevi	.....	saat	.....
ilkbahar	.....	akşamüstü	.....	kitaplık	.....

**Yazılışları verilen sayıların okunuşlarını, okunuşları verilen sayıların yazılışlarını yazın.**

348	.....	501	.....	altı yüz on üç	.....
909	.....	222	.....	dört yüz seksen	.....
750	.....	648	.....	yüz dokuz	.....

**Özellikleri belirtilen rakamları karşlarına yazın.**

Üç basamaklı en küçük tek doğal sayı	.....
Üç basamaklı en büyük çift doğal sayı	.....
Üç basamaklı rakamları birbirinden farklı en küçük tek doğal sayı	.....
Üç basamaklı rakamları birbirinden farklı en büyük çift doğal sayı	.....

**Boşlukları sağda belirtilen uygun kelimelerle doldurun.**

Dünyamızın şekli ..... ye benzer.  
 ..... dünyanın yuvarlak olduğunu düşünen ilk bilim insanıdır.  
 ..... çıktığı gemi seyahati ile dünyanın yuvarlak olduğunu ispatlamıştır.  
 Üzerinde koşup oynadığımız dünya katmanı ..... katmanıdır.  
 Okyanus, göller, denizlerden oluşan katman ..... katmanıdır.  
 ..... katmanının diğer adı atmosferdir.

Kara  
 Küre  
 Pisagor  
 Hava  
 Su  
 Macellan

**Verilen ifadelerden doğru olanların başına “D”, yanlış olanlara “Y” yazın.**

- ( ) Çevreyi kirletmemeli, çöpleri çöp kutusuna atmalı, atmayanları uyarmalıyız.  
 ( ) Arkadaşlarımızla oyun oynarken kurallara gerek yoktur.  
 ( ) Hayvanlara eziyet etmemeli onları korumalıyız.  
 ( ) Grup çalışmalarında görevimizi özveri ile ve eksiksiz yapmalıyız.  
 ( ) Arkadaşlık ilişkilerimizde nezaket ifadelerini kullanmamalıyız.

5 x 1 = 5
5 x 2 = 10
5 x 3 = 15
5 x 4 = 20
5 x 5 = 25
5 x 6 = 30
5 x 7 = 35
5 x 8 = 40
5 x 9 = 45
5 x 10 = 50

( ) Zil çaldığında koşarak dışarı çıkmalı, koşarak içeri girmeliyiz

Tabloyu istenilenlere göre doldurun.

SAYI	2 8 3		
BASAMAK ADLARI	YÜZLER BASAMAĞI	ONLAR BASAMAĞI	BİRLER BASAMAĞI
BASAMAK DEĞERİ			
SAYI DEĞERİ			

SAYI	6 0 4		
BASAMAK ADLARI	YÜZLER BASAMAĞI	ONLAR BASAMAĞI	BİRLER BASAMAĞI
BASAMAK DEĞERİ			
SAYI DEĞERİ			

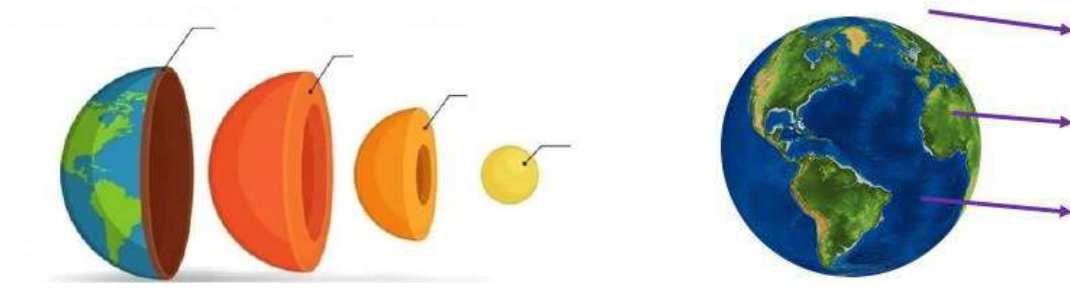
Verilen sayıları en yakın onluğa yuvarlayın.

444 ..... 267 .....  
 123 ..... 395 .....  
 582 ..... 776 .....

Verilen sayıları en yakın yüzlüğe yuvarlayın.

949 ..... 661 .....  
 351 ..... 214 .....  
 725..... 475 .....

Dünyanın katmanlarının isimlerini ilgili yerlere yazın.



İyi bir arkadaşta bulunmasını istediğimiz özelliklerin yazılı olduğu kutuları boyayın.

HOŞGÖRÜLÜ	YALANCI	DÜRÜST	BENCİL	GÜVENİLİR
KABA	YARDIMSEVER	KÜFÜRBAZ	ADALETLİ	ÇIKARCI
KURNAZ	KİBAR	FEDAKÂR	PAYLAŞIMCI	SAYGILI

Verilen kelimelerin eş anlamlarını yazın.

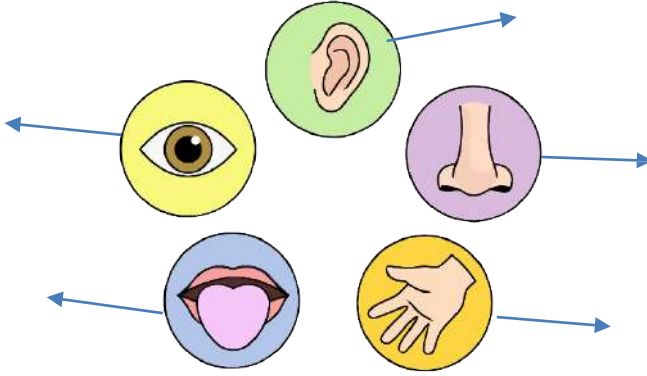
Görev ..... fakir ..... öykü .....  
 Yanıt ..... hekim ..... yürek .....

Lisan ..... düş ..... kelime .....

Altışar, yedişer, sekizer ve dokuzar ritmik saymaları tamamlayın.

6									60
7									70
8									80
9									90

Duyu organlarımızın isimlerini ve işlevlerini (görme, duyma, işitme vb.) yazın.



Verilen ifadelerden doğru olanların başına “D”, yanlış olanlara “Y” yazın.

- ( ) Bir yerin kuşbakışı, ölçsüz, kâğıt üzerine çizimine kroki adı verilir.
- ( ) Kroki oluştururken, evleri eşyaları çizerken cetvel iletki gibi araçlar kullanabiliriz.
- ( ) Kroki çizerken evler binalar şekiller soru işareti ile gösterilir.
- ( ) Kroki çizerken belli bir ölçü kullanılır.
- ( ) Sınıf, okul, mahalle gibi yerlerin krokisi çizilebilir.

Verilen kelimeleri sözlük sırasına göre dizip yanlarına numaralandırın.

beyin	
besin	
asker	
bez	
aslan	
askı	

maket	
makas	
cam	
madde	
can	
cadde	

saat	
süt	
şarkı	
sopa	
şafak	
şarj	

performans	
peri	
deniz	
pembe	
ders	
deri	

Verilen sayıların karşlarına Romen rakamlarını yazın.

4		6		1		15	
7		13		8		2	
10		19		14		5	
12		3		18		9	
17		20		11		16	

Verilen toplama işlemlerini yapalım. En alt sıradaki verilmeyen toplananları bulun.

$\begin{array}{r} 517 \\ 182 \\ + \\ \hline \end{array}$	$\begin{array}{r} 256 \\ 210 \\ + \\ \hline \end{array}$	$\begin{array}{r} 348 \\ 401 \\ + \\ \hline \end{array}$	$\begin{array}{r} 555 \\ 412 \\ + \\ \hline \end{array}$
$\begin{array}{r} 703 \\ 296 \\ + \\ \hline \end{array}$	$\begin{array}{r} 157 \\ 120 \\ + \\ \hline \end{array}$	$\begin{array}{r} 228 \\ 172 \\ + \\ \hline \end{array}$	$\begin{array}{r} 614 \\ 195 \\ + \\ \hline \end{array}$
$\begin{array}{r} 458 \\ 163 \\ + \\ \hline \end{array}$	$\begin{array}{r} 379 \\ 259 \\ + \\ \hline \end{array}$	$\begin{array}{r} 288 \\ 154 \\ + \\ \hline \end{array}$	$\begin{array}{r} 609 \\ 211 \\ + \\ \hline \end{array}$
$\begin{array}{r} 512 \\ \dots \\ + \\ \hline 853 \end{array}$	$\begin{array}{r} \dots \\ 49 \\ + \\ \hline 620 \end{array}$	$\begin{array}{r} \dots \\ 196 \\ + \\ \hline 391 \end{array}$	$\begin{array}{r} 250 \\ \dots \\ + \\ \hline 610 \end{array}$

Çarpım tablosundaki çarpımları eksik olanları yaz ve pratiklik kazanana kadar tekrarla...

2 x 1 = 2	3 x 1 = 3	4 x 1 =	6 x 1 = 6	7 x 1 = 7	8 x 1 =
2 x 2 = 4	3 x 2 = 6	4 x 2 =	6 x 2 = 12	7 x 2 = 14	8 x 2 =
2 x 3 = 6	3 x 3 = 9	4 x 3 =	6 x 3 = 18	7 x 3 = 21	8 x 3 =
2 x 4 = 8	3 x 4 = 12	4 x 4 =	6 x 4 = 24	7 x 4 = 28	8 x 4 =
2 x 5 = 10	3 x 5 = 15	4 x 5 =	6 x 5 = 30	7 x 5 = 35	8 x 5 =
2 x 6 =	3 x 6 =	4 x 6 = 24	6 x 6 =	7 x 6 =	8 x 6 = 48
2 x 7 =	3 x 7 =	4 x 7 = 28	6 x 7 =	7 x 7 =	8 x 7 = 56
2 x 8 =	3 x 8 =	4 x 8 = 32	6 x 8 =	7 x 8 =	8 x 8 = 64
2 x 9 =	3 x 9 =	4 x 9 = 36	6 x 9 =	7 x 9 =	8 x 9 = 72
2 x 10 =	3 x 10 =	4 x 10 = 40	6 x 10 =	7 x 10 =	8 x 10 = 80

**Bulmaca...**

Aşağıdaki bulmacada yandaki sözcükleri bul, bulduğun sözcükleri boyamayı unutma. Boyanmayan harfleri sıra ile aşağıdaki kutucuklara yaz ve şifreyi bul...

Y	A	P	M	A	Y	A	C	A	Ğ	I	M	YAPAMAZSIN
A	S	Ç	Ü	E	A	V	R	E	M	İ	U	OLMAZ
P	L	Z	M	D	P	E	K	A	B	U	R	HAYIR
A	A	L	K	E	A	D	K	L	E	M	O	REDDEDİYORUM
M	E	Y	Ü	E	M	N	D	A	V	R	Y	YAPAMAM
A	A	N	N	I	A	Ş	L	A	R	L	İ	ASLA
Z	A	K	D	A	M	R	Ş	I	L	A	D	MÜMKÜN DEĞİL
S	Ş	I	E	R	S	A	N	M	U	T	E	YAPMAYACAĞIM
I	L	A	Ğ	K	A	E	T	K	İ	L	D	
N	İ	B	İ	İ	Ç	İ	M	D	E		D	
Z	A	M	L	O	R	E	D	D	E	T	E	
M	E	Y	İ	B	İ	L	H	A	Y	İ	R	


Ara tatilde yaşadığınız bir anıyı kısaca anlatın...